
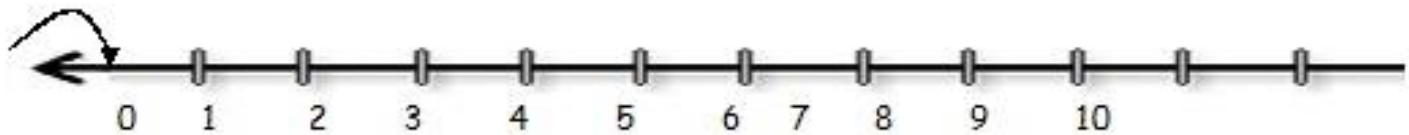


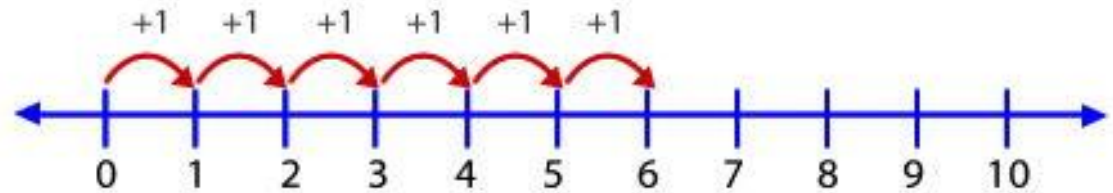
Objetivo: contar de 1 en 1 de manera ascendente y descendente.





Si la rana se ubica en el "0" y salta hasta el "1", decimos que avanzó uno.

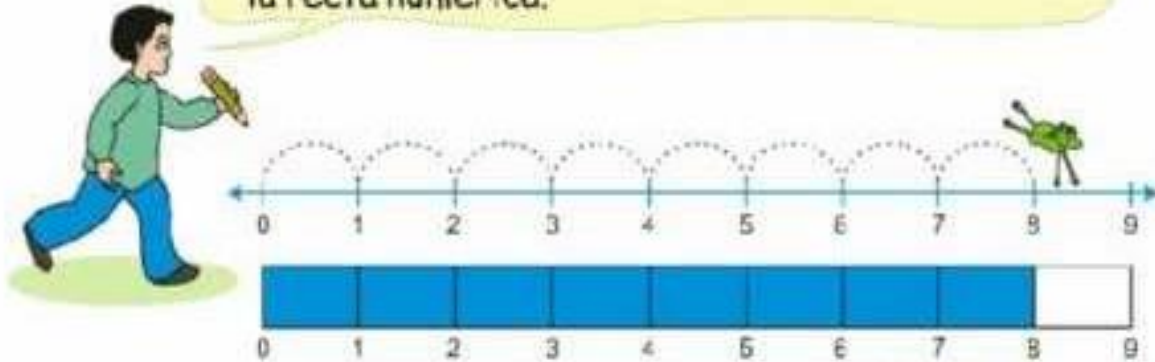
Saltaré de 1 en 1
hacia adelante



¿Cuántos saltos dio el conejo?

La recta numérica

Pinta el número de saltos que ha dado el sapo en la recta numérica.



¿Cuántos saltos dio la rana?

<https://www.youtube.com/watch?v=iMS71Wz9qU8>



Observa este link
explicativo



Salto a lo largo de la recta numérica



<p>Comienza en 7 y salta hacia atrás 3 espacios</p> <input type="text"/> 	<p>Comienza en 9 y salta hacia atrás 5 espacios</p> <input type="text"/> 	<p>Comienza en 5 y salta hacia atrás 3 espacios</p> <input type="text"/> 	<p>Comienza en 8 y salta hacia atrás 5 espacios</p> <input type="text"/> 
<p>Comienza en 6 y salta adelante 3 espacios</p> <input type="text"/> 	<p>Comienza en 4 y salta adelante 6 espacios</p> <input type="text"/> 	<p>Comienza en 3 y salta adelante 3 espacios</p> <input type="text"/> 	<p>Comienza en 2 y salta adelante 6 espacios</p> <input type="text"/> 